



12月号 公立中高一貫校 適性検査対策模試 **適性検査II** 解答用紙

1


問1  平均寿命がのびるといことは、その分高齢化したということだから、高齢者が増える。
理由を答える問題なので、それに準じた書き方をしよう。

※ 6

問2  高齢化社会 ・ 高齢社会 ・ 超高齢社会


説明 アメリカ合衆国やスウェーデンは、なだらかに増加しているが、日本は1990年あたりから急げきに増加している。
1980年
1950年代の日本は、高齢化率が低かったことがわかります。

※ 6


問3  階段をあがるのに足が不自由な人は困難だから、となりかしゃ面になっていて車いすでものぼれるようにしている。

※ 4

具体的には、何が設置されているかを考えよう。
車いすや足の不自由な人が使いやすいですね。(+4)

問4  17


※ 6

問5  人口が減少する。

※ 3

日本の総人口 ↓ ですね。

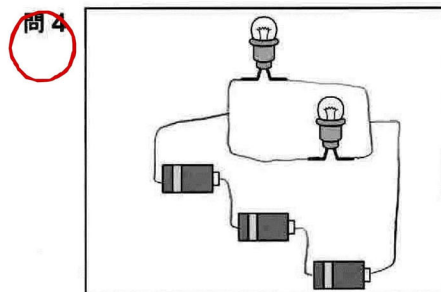
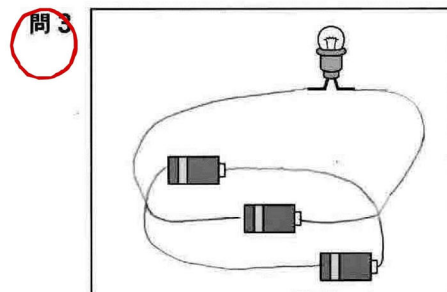
2

問1  ② ・ ⑤

問2  才

※ 6


※ 6




※ 8

※ 8

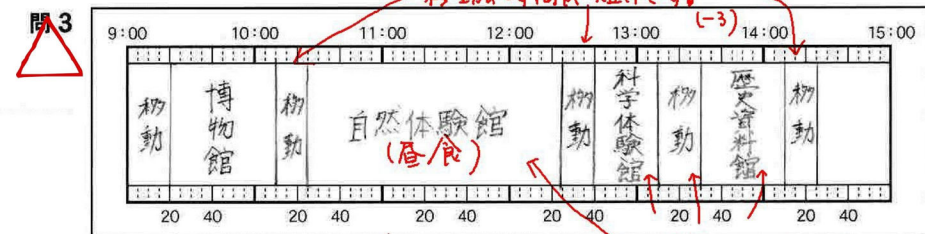
3

問1  2600 円

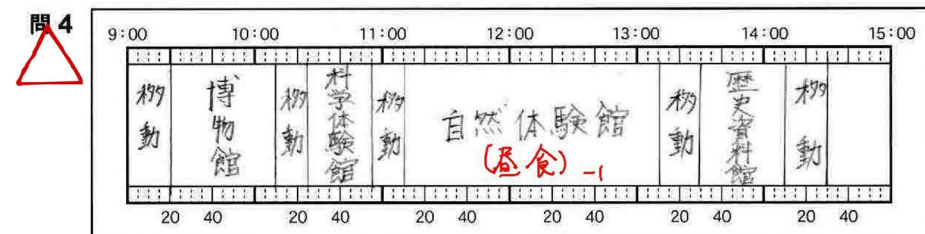
問2  6 時間 10 分

※ 8

※ 0



※ 1



※ 7

会場コード	学年	受験番号	性別	氏名(漢字)	
				姓	名

(注) 男子は1を、女子は2を○で囲むこと。



401251

※ 69

(注) ※印らんには何も書かないこと。